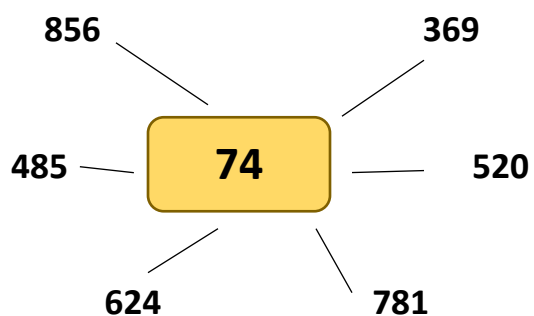
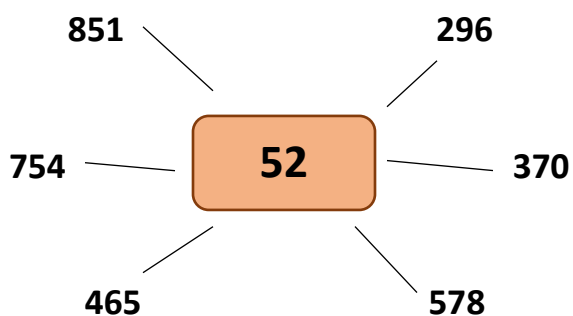
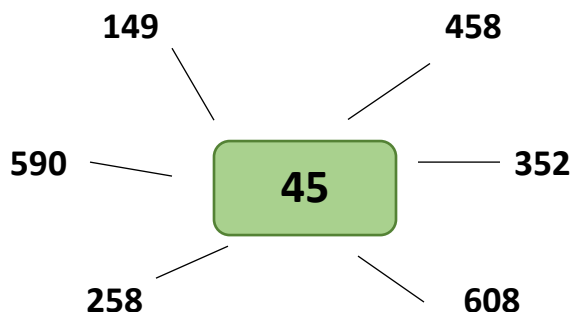
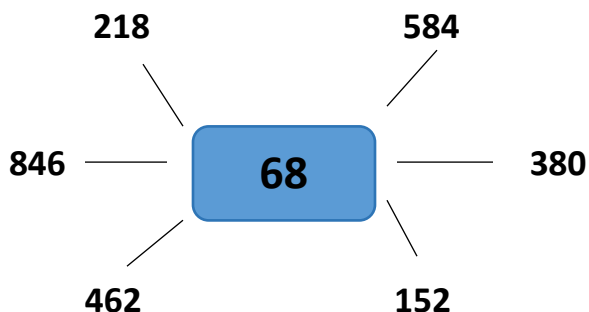


MNOŽENJE VIŠEZNAMENKASTOG BROJA DVOZNAMENKASTIM

1. Pisano pomnoži. Rješavaj u bilježnicu.



Zadatke prepisi i riješi u bilježnici.

2. Umnožak brojeva 368 i 25 uvećaj za umnožak brojeva 419 i 92.

3. Količnik brojeva 3222 i 9 pomnoži s razlikom brojeva 6 919 i 9 854.

4. Cijena kompleta geometrijskog pribora za razred iznosi 368 kn. Koliko će škola platiti geometrijski pribor za 14 razreda?